



ใบงานคณิตศาสตร์

👉 ให้นักเรียนเขียนตามรอยประ



1 1 1 1 1

1 1 1 1 1

1 1 1 1 1

👉 ระบายสีวงกลมที่มีตัวเลข 1

ครูอนุบาล
krusuban.com

2	2	1	2	3	1
1	3	2	1	3	



👉 วาดรูปตามจินตนาการ จำนวน 1 ชิ้น

ชื่อ _____

ชั้น _____

ใบงานคณิตศาสตร์

👉 ให้นักเรียนเขียนเขียนตามรอยประ



สอง



👉 ระบายสีวงกลมที่มีตัวเลข 2

ครูนุบาล
krusuban.com

2	2	1	2	3	1
1	3	2	1	3	


👉 วาดรูปตามจินตนาการ จำนวน 2 ชิ้น

ชื่อ _____

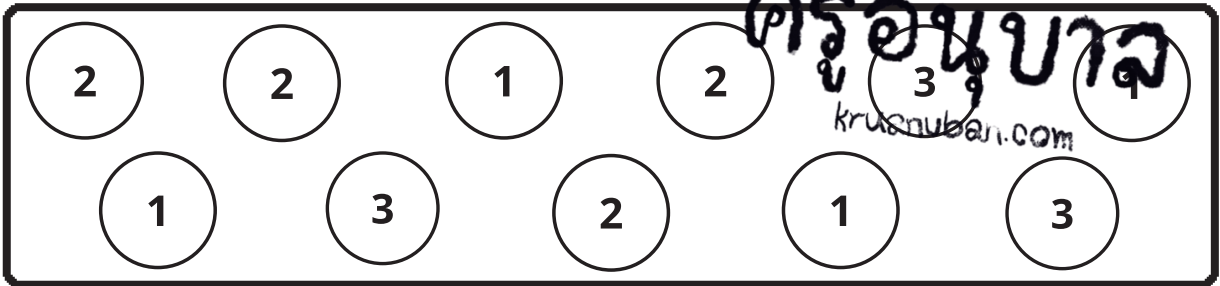
ชั้น _____

ใบงานคณิตศาสตร์

👉 ให้นักเรียนเขียนเขียนตามรอยประ



👉 ระบายสีวงกลมที่มีตัวเลข 3



👉 วาดรูปตามจินตนาการ จำนวน 3 ชิ้น






ชื่อ _____

ชั้น _____

ใบงานคณิตศาสตร์

👉 ให้นักเรียนเขียนเขียนตามรอยประ



4 4 4 4 4

4 4 4 4 4

4 4 4 4 4

👉 ระบายสีวงกลมที่มีตัวเลข 4

ครูนุบาล
krusubbari.com


👉 วาดรูปตามจินตนาการ จำนวน 4 ชิ้น

ชื่อ _____

ชั้น _____

ใบงานคณิตศาสตร์

👉 ให้นักเรียนเขียนเขียนตามรอยประ



👉 ระบายสีวงกลมที่มีตัวเลข 5

ครูนุบาล
krusuban.com

A rectangular box containing ten circles arranged in two rows of five. The numbers inside the circles are: 2, 5, 1, 4, 3 (top row) and 4, 3, 5, 1, 4 (bottom row). The number 5 appears in four circles.

👉 วาดรูปตามจินตนาการ จำนวน 5 ชิ้น



ชื่อ _____

ชั้น _____